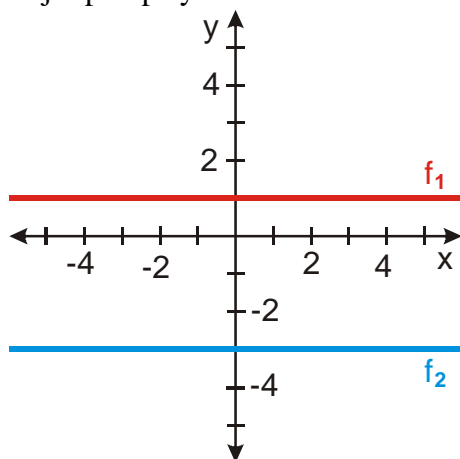
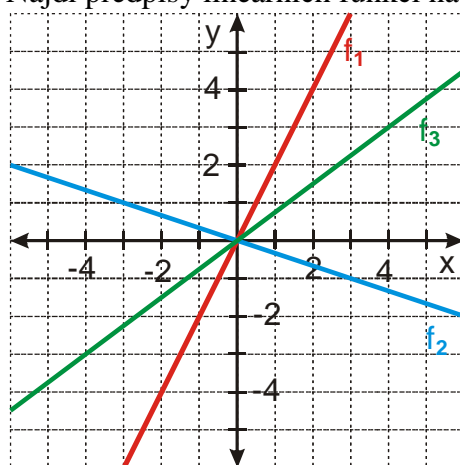


2.1.11 Lineární funkce IV

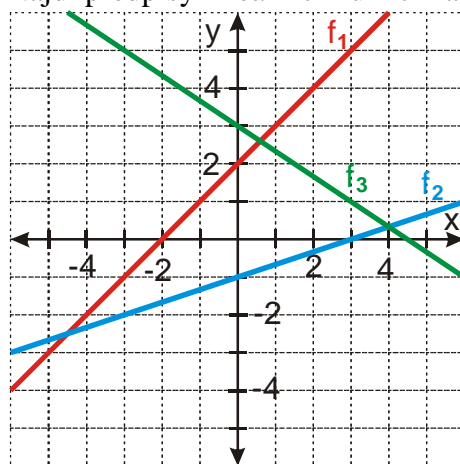
Př. 1: Najdi předpisy lineárních funkcí na obrázku.



Př. 2: Najdi předpisy lineárních funkcí na obrázku.

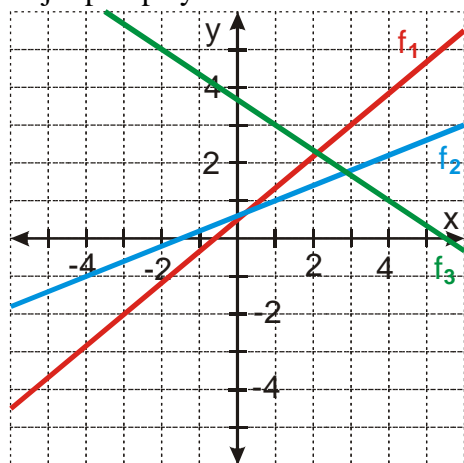


Př. 3: Najdi předpisy lineárních funkcí na obrázku.



Př. 4: Lineární funkce prochází body $[1,1]$ a $[3,-2]$. Urči její předpis:
 a) pomocí soustavy rovnic
 b) pomocí významu konstant a a b

Př. 5: Najdi předpisy lineárních funkcí na obrázku.



Př. 6: Petáková:
strana 27 cvičení 33 a) b) d) e)